


La cena del lunes.

Con la información que tienes en el ordenador puedes contestar las siguientes preguntas que ayudarán a la abuela de Carlos a repartir la cena.

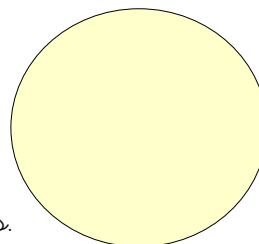


- Si abre dos paquetes, con cinco salchichas cada uno.
 - ¿Cuántas salchichas comerán cada uno? Ayudate de un dibujo.

 - ¿Para ello cuántas salchichas debe cortar? Indicar el menor número posible.

 - ¿En cuántos trozos cortará cada una? Indica el menor número de cortes posibles.

 - Te atreves a dibujar el plato de Lupe con las salchichas que le ha puesto la abuela.




- Si abre otro paquete, contesta a las siguientes preguntas.
 - ¿Cuántas salchichas comerán cada uno? Ayudate de un dibujo.

 - ¿Para ello cuántas salchichas debe cortar? Indicar el menor número posible.

 - ¿En cuántos trozos cortará cada una? Indica el menor número de cortes posibles.

 - Te atreves a dibujar el plato de Lupe con las salchichas que le ha puesto la abuela ahora.



- ¿Cuántas salchichas han comido en total cada uno de los hermanos?