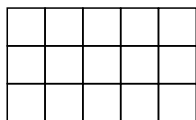



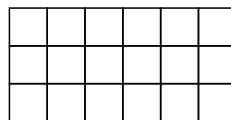
1.- Representa las siguientes fracciones




$$\frac{6}{15}$$



$$\frac{7}{12}$$


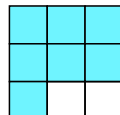
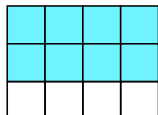


$$\frac{10}{18}$$



$$\frac{1}{3}$$

2.- Escribe la fracción representada por la parte coloreada



3.- Escribe con letra las siguientes fracciones:

$$\frac{2}{4}$$

$$\frac{5}{6}$$

$$\frac{1}{2}$$

$$\frac{11}{12}$$

$$\frac{6}{12}$$

4.- Escribe con cifras las siguientes fracciones

Veintinueve ochenta y cuatroavos ____

Veintisiete cuarenta y cincoavos ____

Veintidos sesenta y sieteavos ____

Doce treceavos ____

Veinte treinta y cincoavos ____

5.- Ordena de mayor a menor las siguientes fracciones:

$$\frac{11}{22} \quad \frac{12}{22} \quad \frac{6}{22} \quad \frac{18}{22} \quad \frac{15}{22}$$

6.- Ordena de menor a mayor las siguientes fracciones:

$$\frac{10}{32} \quad \frac{19}{32} \quad \frac{15}{32} \quad \frac{25}{32} \quad \frac{24}{32}$$

7.- Ordena de mayor a menor las siguientes fracciones:

$$\frac{34}{11} \quad \frac{34}{12} \quad \frac{34}{6} \quad \frac{34}{18} \quad \frac{34}{15}$$

8.- Ordena de menor a mayor las siguientes fracciones:

$$\frac{47}{10} \quad \frac{47}{19} \quad \frac{47}{15} \quad \frac{47}{25} \quad \frac{47}{24}$$

9.- Subraya las fracciones que tienen como valor la unidad

$$\frac{2}{2} \quad \frac{5}{6} \quad \frac{2}{2} \quad \frac{5}{6} \quad \frac{1}{1}$$